


21 से 50 तक की संख्याएँ




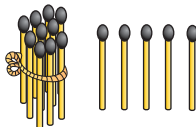
0120CH08

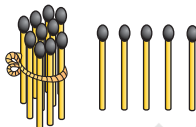
खाली स्थान भरिए।



18









संख्या लिखिए

बंडल और इकाइयाँ बनाइए।



दहाई




इकाइयाँ

दहाई	इकाइयाँ		
1	4		14


दहाई

इकाइयाँ

दहाई	इकाइयाँ		
1	5		15



दहाई




इकाइयाँ

दहाई	इकाइयाँ		


दहाइयाँ

इकाइयाँ

दहाइयाँ	इकाइयाँ		
2	0		20



दहाई



इकाइयाँ

दहाई	इकाइयाँ		

दहाइयाँ

इकाइयाँ

दहाइयाँ	इकाइयाँ		
2	2		22



संख्याएँ लिखिए

दहाइयाँ इकाइयाँ

2 5 25

दहाइयाँ इकाइयाँ

3 3 33

दहाइयाँ इकाइयाँ

2 3

दहाइयाँ इकाइयाँ

4 2

दहाइयाँ इकाइयाँ

दहाइयाँ इकाइयाँ

दहाइयाँ इकाइयाँ

दहाइयाँ इकाइयाँ

दहाइयाँ इकाइयाँ



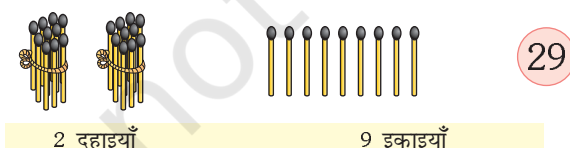
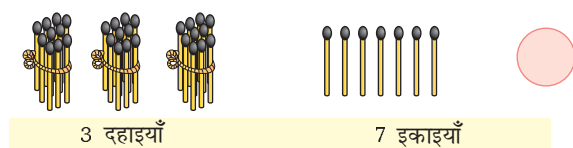
दहाइयाँ इकाइयाँ





21 से 40 तक की संख्याएँ

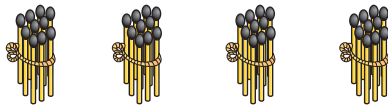
खाली स्थान भरिए।





41 से 50 तक की संख्याएँ

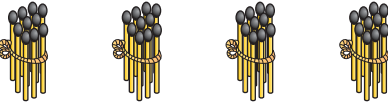
खाली स्थान भरिए।



41

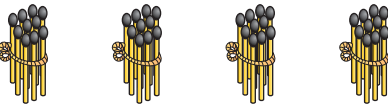
4 दहाइयाँ

1 इकाई



4 दहाइयाँ

2 इकाइयाँ



43

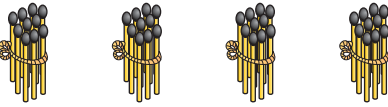
4 दहाइयाँ

3 इकाइयाँ



4 दहाइयाँ

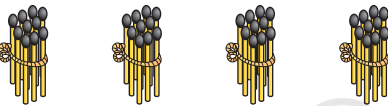
4 इकाइयाँ



45

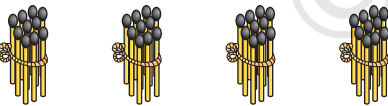
4 दहाइयाँ

5 इकाइयाँ



4 दहाइयाँ

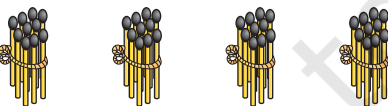
6 इकाइयाँ



47

4 दहाइयाँ

7 इकाइयाँ



48

4 दहाइयाँ

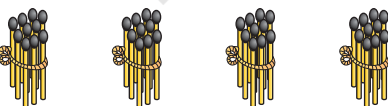
8 इकाइयाँ



49

4 दहाइयाँ

9 इकाइयाँ



50

4 दहाइयाँ

1 दहाई





छूटी हुई संख्याएँ लिखिए

1	2	3	4	5	6	7	8	9	10
11		13			16				
	22					27			
							38		
		43						49	

